
Model E-1

Proces-verbaal van de vooropening bij een briefstembureau in een Nederlandse gemeente

De verkiezing van de leden van de Tweede Kamer der Staten-Generaal in maart 2021

Gemeente	Krimpen aan den IJssel
Kieskring	15 (Leiden)

Waarom een proces-verbaal?

Met dit proces-verbaal legt het briefstembureau verantwoording af over het verloop van de vooropening (het openen van de retourenveloppen en controleren van de stempluspassen). Op basis van de processen-verbaal wordt de uitslag van de verkiezing vastgesteld. Vul het proces-verbaal daarom altijd juist en volledig in.

Na de stemming mogen kiezers het proces-verbaal inzien. Zo kunnen zij nagaan of de vooropening correct verlopen is.

Wie vullen het proces-verbaal in en ondertekenen het?

Alle briefstembureauleden zijn verantwoordelijk voor het correct en volledig invullen van het proces-verbaal. Na afloop van de vooropening ondertekenen alle briefstembureauleden die op dat moment aanwezig zijn het proces-verbaal. Dat zijn in elk geval de voorzitter van het briefstembureau en minimaal drie andere briefstembureauleden.

Let op: Voor elke vooropening vult u een separaat proces-verbaal in.

1. Gegevens briefstembureau

Het nummer van het briefstembureau:

1

Locatie en de openingstijden van het briefstembureau.

Adres of omschrijving locatie

Raadhuis - Raadzaal

Openingstijden voor kiezers

van

tot

09:00

12:30

uur

2. Aanwezigheid briefstembureauleden

Houd per briefstembureaulid de tijden bij waarop het lid op het briefstembureau aanwezig was.

Voorletter(s) en achternaam briefstembureaulid		Aanwezig op het briefstembureau			uur
		Datum	van	tot	
J.S.M.	Verboom-Lagendijk	15-3-2021	09:00	12:30	uur
			:	:	uur
A.	Hofstra	15-3-2021	09:00	12:30	uur
			:	:	uur
A.	Bloot	15-3-2021	09:00	12:30	uur
			:	:	uur
C.A.	Oosterwijk-Burggraaf	15-3-2021	09:00	12:30	uur
			:	:	uur
M.E.M.	Snoeij	15-3-2021	09:00	12:30	uur
			:	:	uur
M.	Kerkmans	15-3-2021	09:00	12:30	uur
			:	:	uur
			:	:	uur
			:	:	uur
			:	:	uur
			:	:	uur
			:	:	uur
			:	:	uur
			:	:	uur
			:	:	uur
			:	:	uur
			:	:	uur
			:	:	uur
			:	:	uur
			:	:	uur
			:	:	uur
			:	:	uur
			:	:	uur
			:	:	uur
			:	:	uur
			:	:	uur

3a. Retourenveloppen; toegelaten kiezers

Vermeld hoe vaak de volgende situaties zich hebben voorgedaan.

De stempluspas is niet echt

-

Het nummer van de stempluspas komt voor in het register ongeldige stempassen

2

De stempluspas ontbreekt

22

(De enveloppe met) het briefstembiljet ontbreekt

25

3b. Toegelaten kiezers

Hoeveel kiezers met een stempluspas zijn door het briefstembureau toegelaten tot de stemming?

1232

4. Bezwaren van kiezers

Hadden de aanwezige kiezers bezwaren tijdens het openen van de retourenveloppen?

Bezwaren zijn klachten of aanmerkingen van kiezers. Voorbeelden van bezwaren: het briefstembureau is moeilijk bereikbaar, het briefstembureau controleert de stempluspassen niet op echtheid, het briefstembureau controleert de stempluspas niet in het ROS.

Leg alle bezwaren van kiezers vast in dit proces-verbaal. Ook als het briefstembureau het er niet mee eens is. Heeft het briefstembureau een reactie op het bezwaar? Noteer die dan ook. Let op: noteer geen persoonsgegevens van kiezers.

Bezwaren van kiezers

Mathematics

1. The area of a rectangle is 48 square units. The length is 8 units. What is the width?

2. A triangle has a base of 10 units and a height of 6 units. What is its area?

3. A circle has a radius of 5 units. What is its circumference?

4. A square has a side length of 7 units. What is its perimeter?



5. A right-angled triangle has legs of length 3 and 4 units. What is the length of the hypotenuse?

6. A cylinder has a radius of 3 units and a height of 10 units. What is its volume?

7. A cone has a radius of 4 units and a height of 6 units. What is its volume?

8. A sphere has a radius of 5 units. What is its surface area?

9. A cube has a side length of 6 units. What is its surface area?

10. A rectangular prism has a length of 8 units, a width of 5 units, and a height of 3 units. What is its volume?

11. A cylinder has a diameter of 10 units and a height of 12 units. What is its surface area?

12. A cone has a diameter of 8 units and a height of 9 units. What is its surface area?

13. A sphere has a diameter of 12 units. What is its volume?

14. A cube has a surface area of 216 square units. What is its volume?

7. Ondertekening briefstembureauleden

Alle briefstembureauleden die in rubriek 6 hun naam hebben genoteerd, ondertekenen het proces-verbaal. Houd hierbij de volgorde aan van rubriek 6.






Datum:

dag	maand	jaar
15	03	2021

Handtekening voorzitter

1.	
----	---

Handtekening briefstembureauleden


2.	
3.	
4.	
5.	
6.	
7.	
8.	
9.	
10.	
11.	
12.	
13.	






6. Briefstembureauleden

Na afloop van de vooropening noteren alle briefstembureauleden die op dat moment aanwezig zijn hun naam op het proces-verbaal. Dat zijn in elk geval de voorzitter van het briefstembureau en minimaal drie andere briefstembureauleden. Ga vervolgens naar rubriek 7 voor de ondertekening.

Datum:

dag	maand	jaar
15	03	2 0 2 1

Naam voorzitter	
1.	J.S.M. Verboom 

Naam briefstembureauleden	
2.	A. Hofstra 
3.	A. Bloot 
4.	C.A. Oosterwijk-Burggraaf 
5.	M.E.M. Snoeij 
6.	M. Kerkmans 
7.	
8.	
9.	
10.	
11.	
12.	
13.	

5. Onregelmatigheden of bijzonderheden

Waren er onregelmatigheden of bijzonderheden tijdens het openen van de retourenveloppen?

Voorbeelden: het brandalarm ging af en het briefstembureau moest worden ontruimd, een briefstembureau lid was te laat of is helemaal niet gekomen.

Omschrijf de onregelmatigheden of bijzonderheden en vermeld hoe vaak hier sprake van was. Let op: noteer geen persoonsgegevens van kiezers.
